





# Reconnaître les carrés et les rectangles



Complète le tableau par oui ou non.

	4 angles droits	4 côtés de même longueur
Figure A	non	oui
Figure B	oui	oui
Figure C	non	non
Figure D	oui	non




	4 angles droits	4 côtés de même longueur
Carré	oui	oui
Rectangle	oui	non


Complète.

La figure B... est un carré.

La figure D... est un rectangle.



EXERCICE 2 :



EXERCICE 3 :

**Le coin du chercheur**

$$\square + \square + \square = 15$$

$$\square = \boxed{5}$$