


- 1 Tirobot a 8 cartes. Il joue avec Robotine et il gagne 5 cartes.
Combien de cartes Tirobot a-t-il maintenant ?

$$8 + 5 = 13$$




Ta phrase réponse

Tirobot a cartes maintenant.

- 2 Tirobot a 2 aquariums.
Dans chaque aquarium, il y a 7 poissons.
Combien de poissons a-t-il en tout ?

$$7 + 7 = 14$$




Ta phrase réponse

Il a poissons en tout.

- 3 Robotine a 10 poissons bleus, 10 poissons rouges et 10 poissons verts dans son aquarium.
Combien de poissons y a-t-il dans l'aquarium ?

$$10 + 10 + 10 = 30$$



Ta phrase réponse

Il y a poissons dans l'aquarium.