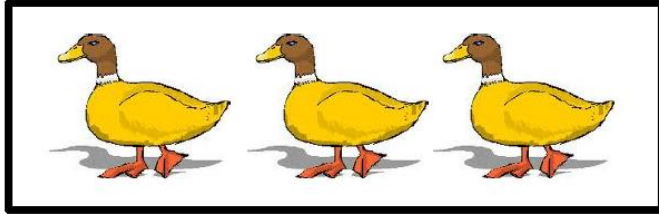


**Correction PROBLEME 20**

Déduire une quantité à partir d'un élément donné.  
Logique.

C.5




Il y a 3 canards.

**Correction PROBLEME 22**

Déduire une quantité à partir d'un élément donné.  
Logique.

C.7



Il y a 2 chevaux.

**Correction PROBLEME 21**

Déduire une quantité à partir d'un élément donné.  
Logique.

C.6

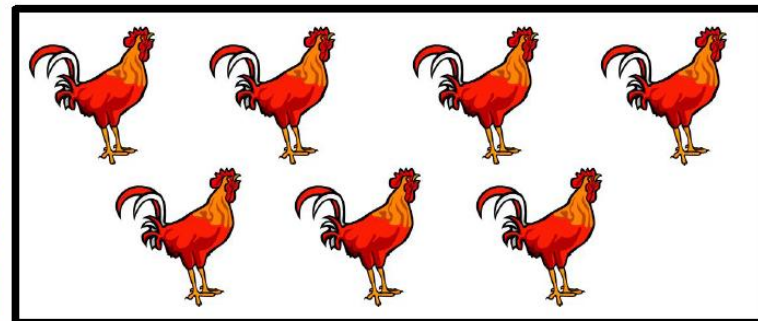


Il y a 3 danseuses.

**Correction PROBLEME 23**

Déduire une quantité à partir d'un élément donné.  
Logique.

C.8



Il y a 7 coqs.