



PROBLEME 24



Il y a 4 bonbons.




Voici Arthur

Voici Zoé


On distribue tous les bonbons. Zoé veut avoir plus de bonbons que Arthur.

Combien doit-elle en prendre ?

PROBLEME 25



Il y a 3 bonbons.



Voici Arthur

Voici Zoé

On distribue tous les bonbons. Zoé veut avoir moins de bonbons que Arthur.

Combien doit-elle en prendre ?

PROBLEME 26



Voici Zoé



Voici Arthur

Zoé a 2 bonbons. Arthur veut 1 bonbon de plus que Zoé.

Combien Arthur doit-il prendre de bonbons ?

PROBLEME 27



Voici Zoé



Voici Arthur

Arthur a 4 bonbons. Zoé a 2 bonbons de moins que Arthur.

Combien Zoé a-t-elle de bonbons ?