




PROBLEME 28



Il y a 4 bananes.
Les 2 singes doivent manger autant de
bananes chacun.

Combien peuvent-ils en manger chacun ?

PROBLEME 29



Combien les enfants doivent-ils prendre de balles
pour en avoir autant chacun ?

PROBLEME 30



Combien Rose doit-elle encore prendre de balles
pour en avoir autant que Léo ?

PROBLEME 31



Combien le 2ème et le 3ème écureuil doivent-ils encore
ramasser de glands pour en avoir autant que le 1er ?